
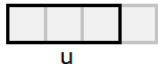
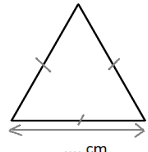

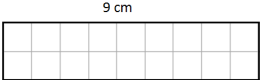
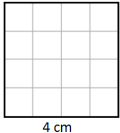


	Enoncé	Réponse	Jury
1	$8 \times 8$		
2	La moitié de 32		
3	$(6 \times 1\,000) + (3 \times 10)$		
4	Complète.		
5	$27 - 9$		
6	$100 - 19$		
7	Ajoute un quart-heure à 2 h 50 min		
8	A quelle fraction de u correspond la partie grisée ? 		
9	12 feutres coûtent 6 €. Combien coûtent 6 feutres ?		
10	Complète.	$77 - \dots = 50$	

	Enoncé	Réponse	Jury
11	Complète.	$\dots \times 2,3 = 23$	
12	Le chiffre des dixièmes de 58,41		
13	Combien faut-il de pièces de 10 centimes pour avoir 1,40 € ?		
14	$0,5 \times 6$		
15	27 élèves se mettent par groupe de 3. Combien y-a-t-il de groupes ?		
16	Complète.	$147 \text{ cm} = \dots\dots\dots \text{ m}$	
17	Le <b>périmètre</b> de ce triangle équilatéral est de <b>21 cm</b> . Complète.		
18	Ecriture décimale de $6 + \frac{4}{100}$		
19	Dans 75 combien de fois 25 ?		
20	Entoure le plus grand nombre.	1,2 $\frac{4}{5}$	

	Enoncé	Réponse	Jury
21	68 : 2		
22	68 : 4		
23	Complète.		
24	Encadre 19,8 par deux entiers consécutifs.	..... < 19,8 < .....	
25	Ajoute 50 min à 2 h 48 min		
26	Complète.	0,800 kg = ..... g	
27	3 croissants coûtent 3,45 € Combien coûte un croissant ?		
28	Complète.	750 mL + ..... mL = 1 L	
29	Il faut 6 œufs pour faire des crêpes pour 9 personnes. Combien faut-il d'œufs pour 3 personnes ?	.... œufs	
30	  Entoure la bonne réponse.	Ces deux figures ont la même aire  VRAI ou FAUX	

NOM: \_\_\_\_\_ PRÉNOM: \_\_\_\_\_

CLASSE: \_\_\_\_\_

SCORE: \_\_\_ /30

✓ **Durée : 9 minutes**

✓ *L'épreuve comporte 30 questions.*

✓ *L'usage de la calculatrice et du brouillon sont interdits.*

✓ *Il n'est pas permis d'écrire des calculs intermédiaires.*



JUIN

CM2



MINISTÈRE  
DE L'ÉDUCATION NATIONALE,  
DE L'ENSEIGNEMENT SUPÉRIEUR  
ET DE LA RECHERCHE

