
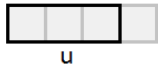


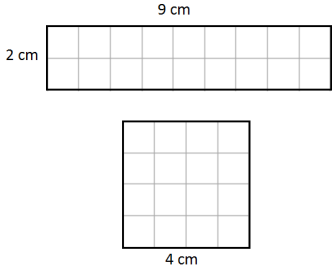


	Enoncé	Réponse	Jury
1	8×8		
2	La moitié de 32		
3	$(6 \times 1\,000) + (3 \times 10)$		
4	Complète.		
5	$27 - 9$		
6	$100 - 19$		
7	Ajoute un quart-heure à 2 h 50 min		
8	A quelle fraction de u correspond la partie grisée ? 		
9	12 feutres coûtent 6 €. Combien coûtent 6 feutres ?		
10	Complète.	$77 - \dots = 50$	

	Enoncé	Réponse	Jury
11	Complète.	$\dots \times 23 = 230$	
12	Le chiffre des centaines de 35 801		
13	Ecriture décimale de $2 + \frac{3}{10} + \frac{5}{100}$		
14	Le triple de 12		
15	24 élèves se mettent par groupe de 3. Combien y-a-t-il de groupes ?		
16	Complète.	$140 \text{ cm} = \dots\dots \text{ m}$	
17	Le périmètre de ce carré est de 20 cm . Complète.		
18	Combien faut-il de pièces de 10 centimes pour avoir 1,70 € ?		
19	Dans 48 combien de fois 8 ?		
20	Entoure la plus grande fraction.	$\frac{3}{4}$ $\frac{3}{2}$	

	Énoncé	Réponse	Jury
21	60 : 2		
22	60 : 4		
23	Complète.		
24	Encadre 4,8 par deux entiers consécutifs. < 4,8 <	
25	Ajoute 55 min à 2 h 06 min		
26	Complète.	2500 g = kg	
27	3 croissants coûtent 3,60 € Combien coûte un croissant ?		
28	$0,5 + \frac{1}{2} + \frac{1}{2}$		
29	Il faut 6 œufs pour faire des crêpes pour 9 personnes. Combien faut-il d'œufs pour 3 personnes ? oeufs	
30	Entoure la figure qui a la plus grande aire.		

NOM: _____ PRÉNOM: _____

CLASSE: _____


SCORE: ___ /30

✓ **Durée : 9 minutes**

✓ *L'épreuve comporte 30 questions.*

✓ *L'usage de la calculatrice et du brouillon sont interdits.*

✓ *Il n'est pas permis d'écrire des calculs intermédiaires.*



JUIN

CM1

académie
Strasbourg 

MINISTÈRE
DE L'ÉDUCATION NATIONALE,
DE L'ENSEIGNEMENT SUPÉRIEUR
ET DE LA RECHERCHE

