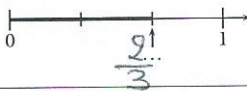
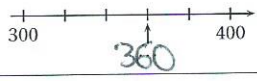



ÉNONCÉ	RÉPONSE	JURY
$7 \times 5$	35	
$23 + 17$	40	
Complète.	Dans 20300, il y a <del>203</del> centaines.	
$103 - 11$	92	
Complète.	$4 \times \underline{7} \dots = 28$	
Ajoute un quart d'heure à 2 h 20 min.	<u>2</u> h <u>35</u> min	
La moitié de 52	26	
Complète par une fraction.		
12 vis pèsent 30 g.	24 vis pèsent <u>60</u> g.	
$36 \div 4$	9	
Écriture décimale de $(7 \times 10) + (3 \times \frac{1}{10})$	$70 + \frac{3}{10} = 70,3$	
5 dizaines 23 unités =	<u>73</u> unités	

ÉNONCÉ	RÉPONSE	JURY
13) Complète.		
14) $8 \times 25$	200	
15) Un fleuriste a 100 roses. Combien de bouquets de 5 roses peut-il faire au maximum ?	20	
16) Le quart de 1	0,25	
17) Quel est le nombre 100 fois plus grand que 5 dizaines ?	5000	
18) Quelle est l'aire du rectangle ?	<input type="checkbox"/>  4 <u>2</u> unités d'aire	
19) Le double de 12,5	25	
20) Encadre la fraction par 2 entiers consécutifs.	$2 \dots < \frac{9}{4} < \dots 3$	