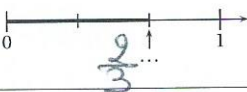




ÉNONCÉ	RÉPONSE	JURY
7×5	35	
$23 + 17$	40	
Complète.	Dans 20300, il y a <u>203</u> centaines.	
$103 - 11$	92	
Complète.	$4 \times \dots = 28$	
Ajoute un quart d'heure à 2 h 20 min.	<u>2</u> h <u>35</u> min	
La moitié de 52		
Complète par une fraction.		
12 vis pèsent 30 g.	24 vis pèsent <u>60</u> g.	
$36 \div 4$	9	
$(7 \times 100) + (3 \times 1)$	703	
23 unités 5 dizaines =	<u>73</u> unités	

ÉNONCÉ	RÉPONSE	JURY
13) Complète.		
14) 4×25	100	
15) Un fleuriste a 100 roses. Combien de bouquets de 20 roses peut-il faire au maximum ?	5	
16) La moitié de 1	0,5	
17) Quel est le nombre 10 fois plus grand que 3 centaines ?	3000	
18) Complète.	 Il y a <u>21</u> fleurs.	
19) Le double de 19	38	
20) Encadre la fraction par 2 entiers consécutifs.	$2 < \frac{5}{2} < 3$	