


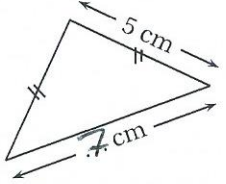


	ÉNONCÉ	RÉPONSE	JURY
1)	6×6	36	
2)	$18 + 9$	27	
3)	La moitié de 24	12	
4)	Complète.	$71 + 29 = 100$	
5)	$(5 \times 100) + (8 \times 1)$		
6)	Complète.		
7)	$72 - 50$	22	
8)	Ajoute une demi-heure à 1 h 20 min.	1..... h 50..... min	
9)	 Quelle est la fraction de la bande qui est grisée ?	$\frac{3}{4}$	
10)	8 stylos coûtent 5 €. Combien coûtent 16 stylos ?	10... €	
11)	Complète.	9... $\times 8 = 72$	
12)	Le chiffre des dixièmes de 145,73	7	

	ÉNONCÉ	RÉPONSE	JURY
13)	$3000 - 60$	2940	
14)	50% de 26	13	
15)	Complète.		
16)	Complète.	1,67 m = 167 cm	
17)	Le périmètre de ce triangle isocèle est égal à 17 cm. Complète.		
18)	Un bonbon coûte 10 centimes. Complète.	Avec 1,20 €, je peux acheter 12... bonbons.	
19)	Un train part à 10 h 49 min. Le trajet dure 1 h 13 min. À quelle heure arrive le train ?	12... h 02... min	
20)	Entoure le plus grand nombre.	3,15 3,2	
21)	25×4	100	
22)	$25 \times 7 \times 4$	700	