

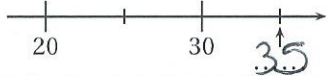
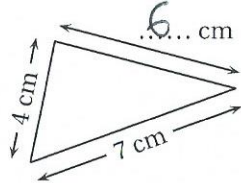


	ÉNONCÉ	RÉPONSE	JURY
1)	6×6	36	
2)	$18 + 9$	27	
3)	La moitié de 24	12	
4)	Complète.	$71 + 29 = 100$	
5)	$(5 \times 100) + (8 \times 1)$	508	
6)	Complète.		
7)	$72 - 50$	22	
8)	Ajoute une demi-heure à 1 h 20 min.	1... h 50... min	
9)	 Quelle est la fraction de la bande qui est grisée ?	$\frac{3}{4}$	
10)	8 stylos coûtent 5 €. Combien coûtent 16 stylos ?	10... €	
11)	Complète.	$3 \times 8 = 24$	
12)	Le chiffre des dizaines de 4572	7	

	ÉNONCÉ	RÉPONSE	JURY
13)	$5000 + 40$	5040	
14)	Le double de 16	32	
15)	Complète.		
16)	Complète.	3 m = 300 cm	
17)	Le périmètre de ce triangle est égal à 17 cm. Complète.		
18)	Combien faut-il de billets de 10 € pour avoir 180 € ?	18	
19)	Dans 45 combien de fois 9 ?	5	
20)	Entoure la plus grande fraction.	$\left(\frac{1}{2}\right)$ $\frac{1}{4}$	
21)	25×4	100	
22)	$25 \times 4 \times 7$	700	