

Nom :

Date :

Corrigé

Reconnaître et décrire des solides

1 Classe ces solides en deux groupes

Les polyèdres :

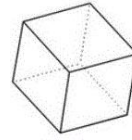
2 - 5 - 6 - 7 - 8

Les non polyèdres

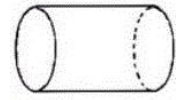
1 - 3 - 4



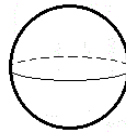
1 Le cône



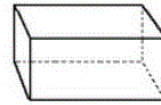
2 Le cube



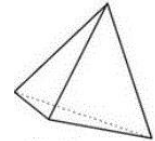
3 Le cylindre



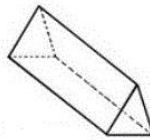
4 La sphère



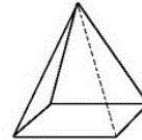
5 Le pavé



6 Le tétraèdre



7 Le prisme



8 La pyramide

2 Complète le tableau

Solide	Nombre de faces	Nombre de sommets	Nombre d'arêtes
 pavé	6	8	12
 cube	6	8	12
 pyramide	5	5	8
 prisme	5	6	9
 cône	2	1	1