

Compétence : Distinguer aire de la surface d'une figure et périmètre de cette figure.

Prénom .....

Date .....

1 Calcule l'aire et le périmètre de chaque figure grise.



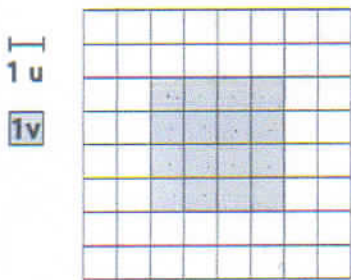
Périmètre : ...12... u

Aire : ...9... v



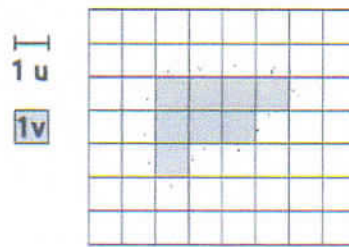
Périmètre : ...12... u

Aire : ...8... v




Périmètre : ...16... u

Aire : ...16... v



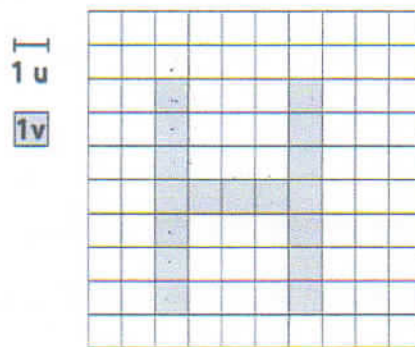
Périmètre : ...14... u

Aire : ...8... v



Périmètre : ...32... u

Aire : ...15... v



Périmètre : ...36... u

Aire : ...17... v