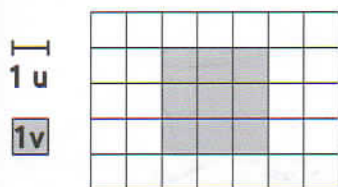


Compétence : Distinguer aire de la surface d'une figure et périmètre de cette figure.

Prénom

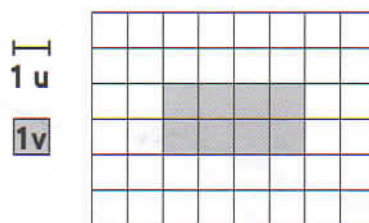
Date

1 Calcule l'aire et le périmètre de chaque figure grise.



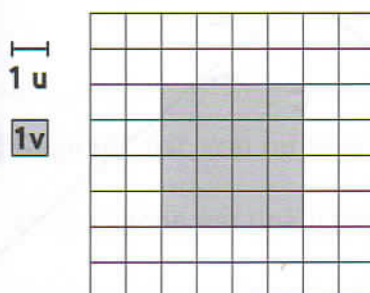
Périmètre: u

Aire: v




Périmètre: u

Aire: v



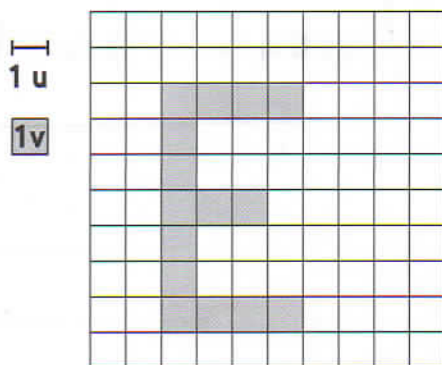
Périmètre: u

Aire: v



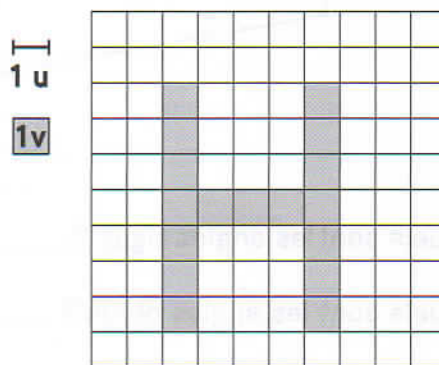
Périmètre: u

Aire: v



Périmètre: u

Aire: v



Périmètre: u

Aire: v