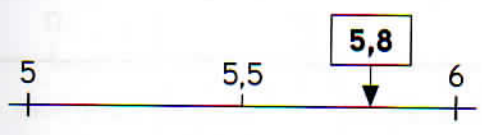



Compétence : Arrondir un nombre décimal au nombre entier le plus proche.

Prénom Date


1 Arrondis chaque nombre encadré au nombre entier le plus proche.



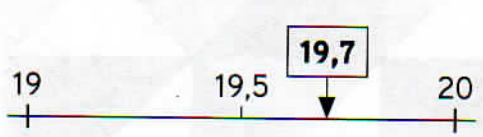
5,8 →



12,1 →



5,2 →



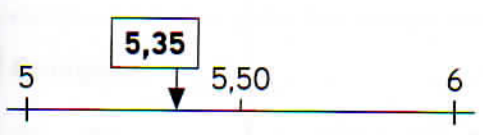
19,7 →

2 Place approximativement les nombres 8,2 ; 7,7 ; 9,1 et 9,8 sur cette droite graduée. Arrondis chaque nombre au nombre entier le plus proche.



8,2 → ; 7,7 → ; 9,1 → ; 9,8 →

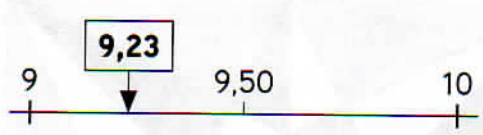
3 Arrondis chaque nombre encadré au nombre entier le plus proche.



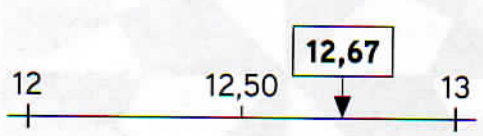
5,35 →



8,76 →




9,23 →



12,67

4 Place approximativement les nombres 8,94 ; 7,24 ; 9,75 et 9,47 sur cette droite graduée. Arrondis chaque nombre au nombre entier le plus proche.



8,94 → ; 7,24 → ; 9,75 → ; 9,47 →