


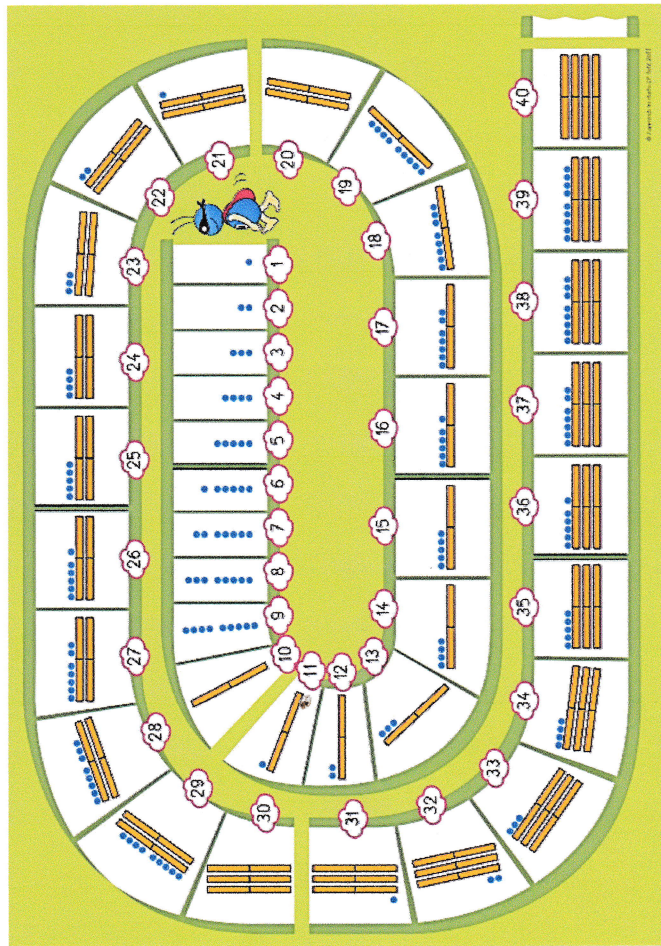


# Les groupes de 10

Picbille range ses jetons dans sa boîte. 

Il ne prend une boîte que lorsqu'il veut la remplir.

C'est un groupe de 10, on l'appelle dizaine.



**17**, c'est **1** groupe de 10 et **7** jetons.

**21**, c'est **2** groupes de 10 et **1** jeton.











**39**, c'est **3** groupes de 10 et **9** jetons.

**40**, c'est **4** groupes de 10 et **0** jeton.



# Les dizaines



<b>10</b>		1 groupe de 10	dix
<b>20</b>		2 groupes de 10	vingt
<b>30</b>		3 groupes de 10	trente
<b>40</b>		4 groupes de 10	quarante
<b>50</b>		5 groupes de 10	cinquante
<b>60</b>		6 groupes de 10	soixante
<b>70</b>		7 groupes de 10	soixante-dix
<b>80</b>		8 groupes de 10	quatre-vingts
<b>90</b>		9 groupes de 10	quatre-vingt-dix
<b>100</b>		10 groupes de 10	cent