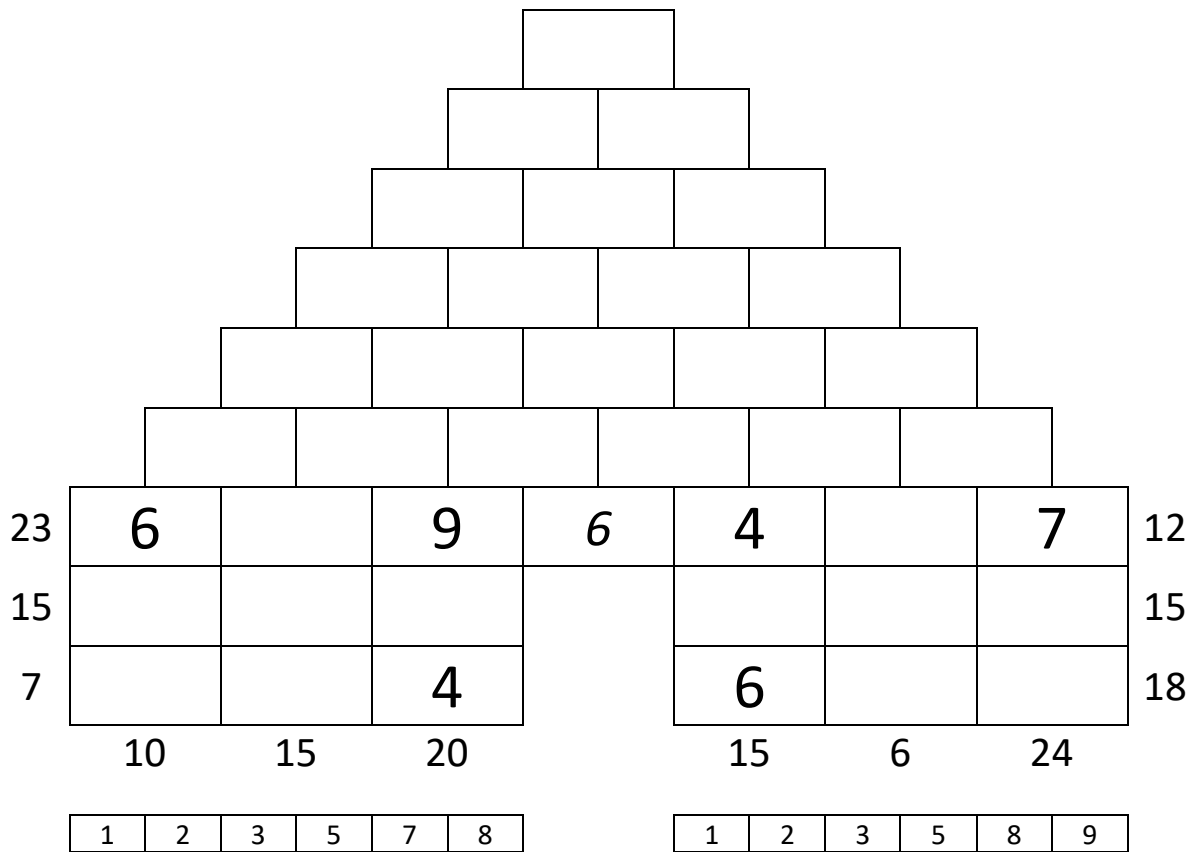


Jeux mathématiques n°2

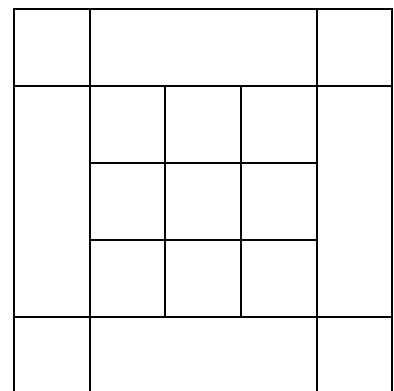
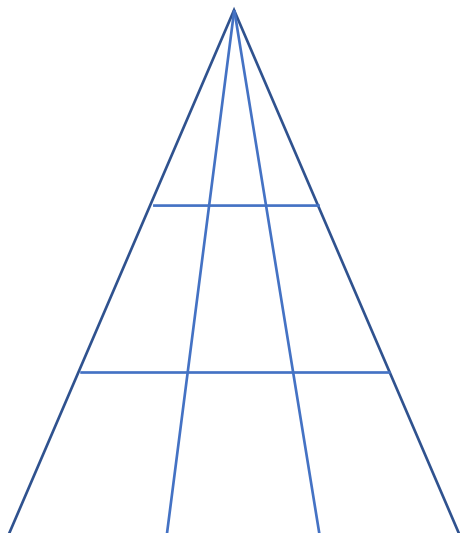
(Les élèves qui proposeront des réponses pendant les vacances recevront une réponse)

FUBUKI PYRAMIDE n°2 :



Triangles et carrés : Combien vois-tu de carrés ci-contre ?

Combien vois-tu de triangles ci-dessous ?



FUBUKIS D'ENTRAINEMENT :

Niveau Facile :

10	1		5
14			
21	6		8
	9	14	22

2	3	4	7	9	
---	---	---	---	---	--

	2		6	12
				12
	5		9	21
	15	12	18	

1	3	4	7	8	
---	---	---	---	---	--

Niveau moyen :

10	4		1
18			
17			2
	18	17	10

3	5	6	7	8	9
---	---	---	---	---	---

	8		6	18
				13
			3	14
	15	20	10	

1	2	4	5	7	9
---	---	---	---	---	---

Niveau difficile :

6	2		
19			
20			7
	11	17	17

1	3	4	5	6	8	9
---	---	---	---	---	---	---

	8			15
				15
			2	15
	23	12	10	

1	3	4	5	6	7	9
---	---	---	---	---	---	---

Pour tâtonner...

1	2	3
4	5	6
7	8	9

1	2	3
4	5	6
7	8	9