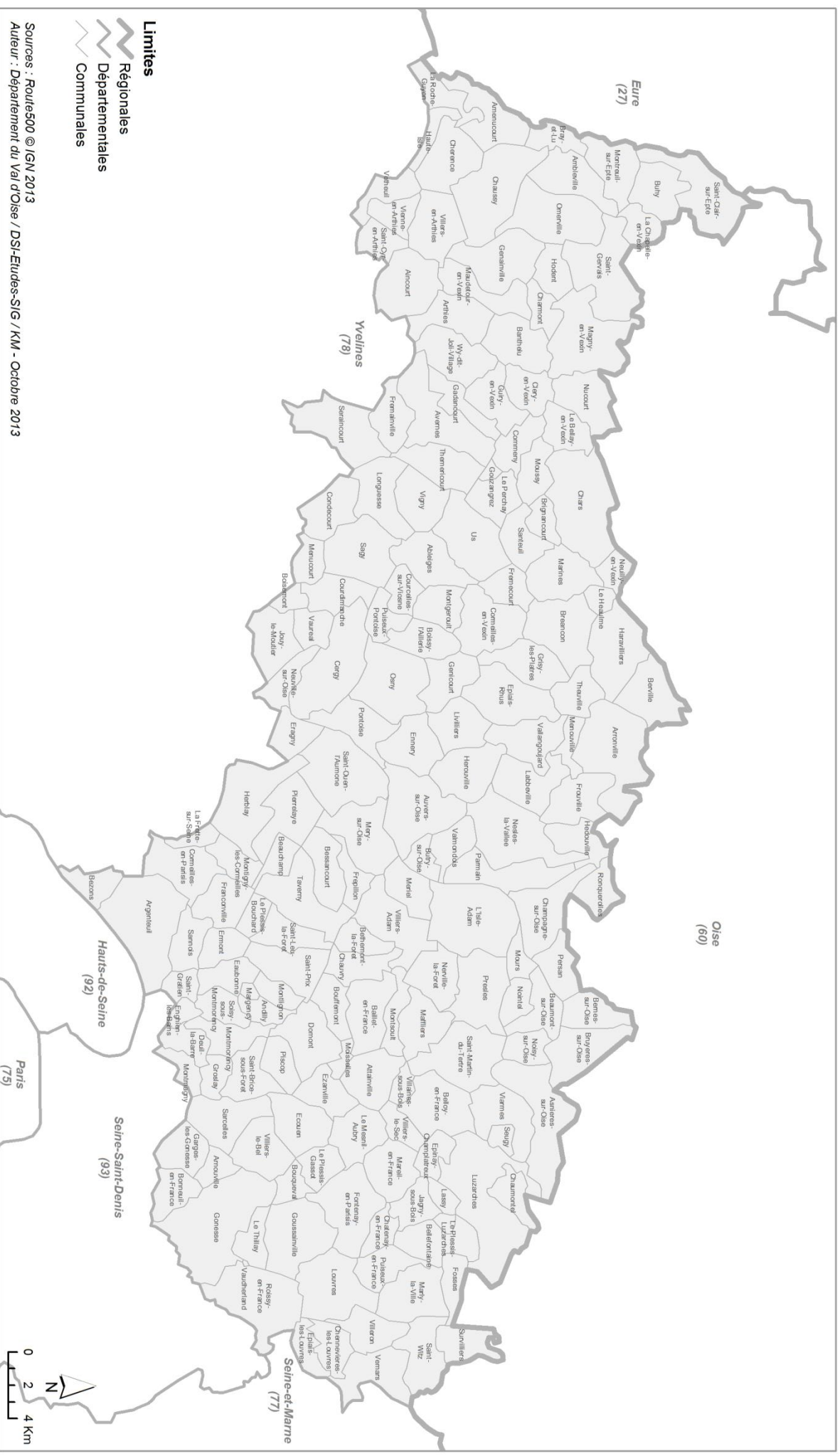


# Département du Val d'Oise

## Communes



## Notre région : l'Île de France

1

### La région

Notre région est un territoire encore plus vaste qu'un département : elle comporte plusieurs départements. Notre région porte un nom qui la situe ( l'Île de France ).  
D'autres régions portent un nom qui rappelle les anciennes provinces du royaume de France ( ex : Aquitaine, Bourgogne ... ).  
Chaque région est un territoire placé sous la responsabilité de ses habitants.

2

### Logo de la région Ile de France



3

### Le conseil régional

Dans chaque région, les habitants élisent des conseillers régionaux. Les 27 régions sont gérées par le conseil régional et son président. Le conseil régional a la charge du développement économique, social et culturel, des actions en faveur de l'agriculture et du tourisme, de l'environnement, de l'aménagement du territoire régional, des lycées, des transports.

4

### La préfecture de région

Chaque région a un préfet de région. Il est le représentant de l'Etat dans la région. Il est chargé de faire appliquer la politique du gouvernement. Par exemple, il contrôle qu'il y a suffisamment d'hôpitaux, il surveille que l'on ne pollue pas la mer, il organise les secours quand des personnes sont en danger ...

Dans le Centre, la préfecture de région se situe à Orléans.

<https://www.iledefrance.gouv.fr/>

## Notre région : l'Île de France

5

### Carte de la région Ile de France




6


### La région Ile de France

La région Ile de France est composée de 8 départements : l'Essonne, les Yvelines, le Val d'Oise, la Seine et Marne, le Val de Marne, les Hauts de Seine, la Seine Saint Denis et Paris. L'Ile de France est traversée du nord au sud par la Seine. La région abrite 4 parcs naturels régionaux ( le Vexin, les Trois forêts, la Haute Vallée de Chevreuse et le Gâtinais ), et dispose d'une grande diversité de paysages : forêts, étangs, landes, champs cultivés ...  
L'agriculture couvre plus de 50% du territoire régional. L'Ile de France est la première région industrielle française par son nombre d'employés alors que c'est l'une des régions les moins industrialisées. Enfin, la région possède un riche patrimoine culturel à l'image des châteaux de Versailles, de Fontainebleau, de Vincennes, de la cathédrale Notre-Dame de Paris ...

<https://www.iledefrance.gouv.fr/>

## Une région française : l'Ile de France

 Colorie la région Ile de France en vert et souligne en rouge la capitale régionale.

 Quels départements appartiennent à cette région ? Précise leur numéro et leur préfecture.

.....

.....

.....

.....

.....

.....

.....

.....

.....

.....



 Rédige une phrase qui situe cette région en France.


.....


.....


 Quelles sont les régions voisines ?


.....

.....

 A quel rang national se situe l'Ile de France pour sa population ?

 Pour sa superficie ?

 Quelle ville fait l'identité de la région Ile-de-France ?

 Que représentent les 8 branches du logo ?

Ile de France		
Population 2010	12000000 hab.	1 <sup>er</sup> rang national
Superficie	12012 km <sup>2</sup>	3 <sup>e</sup> rang national
Densité de population	977 hab./km <sup>2</sup>	
Préfecture de région	Paris	



Île de France

