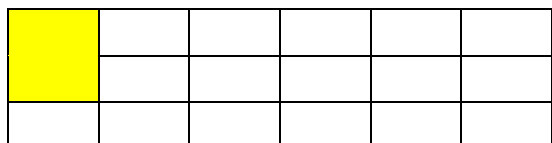







# Des carrés et des rectangles CORRECTION

Combien vois-tu de carrés ? Pour les carrés, ce n'est pas très compliqué ; il suffit de compter le nombre de carrés que l'on peut faire en prenant deux petits rectangles...



Combien vois-tu de rectangles ? Pour les rectangles, c'est plus compliqué... Il y a différents types de rectangles à retrouver...



Attention ! Les carrés sont aussi des rectangles...

J'attends vos propositions par courriels ou sur classroom...