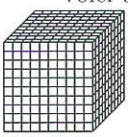
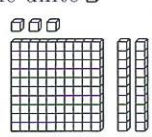
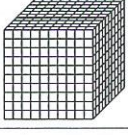
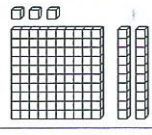


ÉNONCÉ	RÉPONSE	JURY
Voici une unité  	Il y a <u>2</u> dizaines de cubes toutes seules .	
Voici une unité  	Il y a <u>12</u> dizaines de cubes en tout .	
Entoure le nombre le plus proche du résultat de 47×97 .	150 500 <u>5 000</u>	
Encadre la fraction par deux nombres entiers qui se suivent.	$1. < \frac{7}{4} < 2$	
Toutes les balles sont au même prix. 9 balles coûtent 13,50 € et 4 balles coûtent 6 €.	11 balles coûtent <u>16. € 50 ct</u>	
Donne deux autres écritures de 0,25.	$\frac{1}{4}$; $\frac{25}{100}$	
Quel est le nombre 10 fois plus grand que 7 ?	<u>70</u>	
Le quart de 44	$\frac{44}{4} = 11$	
. Complète.	10 dL = <u>. 1 L</u>	
Une usine fabrique des cahiers. 5 couleurs et 3 tailles sont possibles.	Elle peut fabriquer <u>15</u> cahiers différents.	

NOM:

PRÉNOM:

SCORE: /30

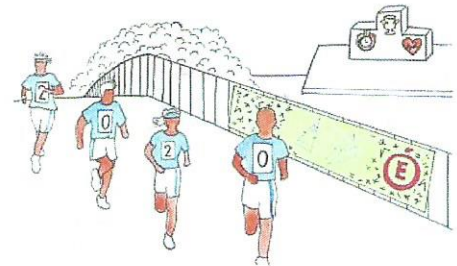
CLASSE:

✓ *Durée: 9 minutes*

✓ *L'épreuve comporte 30 questions.*

✓ *L'usage de la calculatrice et du brouillon sont interdits. Il n'est pas permis d'écrire des calculs intermédiaires.*

SUJET CM2 MARS 2020



Lucie Raich, élève de 1^{re}, lycée Fustel de Coulanges - Strasbourg

