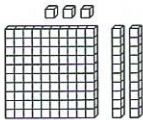
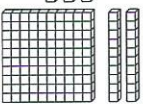


CM1

ÉNONCÉ	RÉPONSE	JURY
Voici un cube unité 	Il y a <u>2</u> dizaines de cubes unités <b>toutes seules.</b>	
Voici un cube unité 	Il y a <u>12</u> dizaines de cubes unités <b>en tout.</b>	
Entoure le nombre le plus proche du résultat de $47 \times 97$ .	150 500 <u>5000</u>	
Encadre la fraction par deux nombres entiers qui se suivent.	$1. < \frac{7}{4} < 2$	
Toutes les balles sont au même prix. 9 balles coûtent 13 € 50 cents et 4 balles coûtent 6 €.	11 balles coûtent <u>16. € 50 cents</u>	
Donne deux autres écritures de $\frac{3}{2}$ .	$\frac{3}{2} = 1 + \frac{1}{2} = 1,5$	
Quel est le nombre 10 fois plus grand que 7 ?	<u>70</u>	
Le quart de 44	$\frac{44}{4} = 11$	
Complète.	1 L = <u>100</u> cL	
Une usine fabrique des cahiers. 5 couleurs et 3 tailles sont possibles.	Elle peut fabriquer <u>15</u> cahiers différents.	

NOM: .....

PRÉNOM: .....

SCORE: /30


CLASSE: .....

✓ Durée: 9 minutes

✓ L'épreuve comporte 30 questions.

✓ L'usage de la calculatrice et du brouillon sont interdits. Il n'est pas permis d'écrire des calculs intermédiaires.

SUJET CM1 MARS 2020



Lucie Buch, élève de 1<sup>re</sup> lycée Gustave de Colonges - Strasbourg

